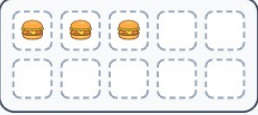


แบบฝึกนับจำนวนแทนเฟรม

ชื่อ _____ ชั้น _____ เลขที่ _____ วันที่ _____

__ / 12 คะแนน


1)




2)



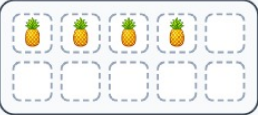
3)




4)




5)



6)



7)



8)



แบบฝึกนับจำนวนแทนเฟรม

ชื่อ _____ ชั้น _____ เลขที่ _____ วันที่ _____

__ / 12 คะแนน

9)



10)



11)



12)

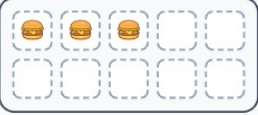


เจดยท่ายชุด

ชื้อ _____ ชัณ _____ เลขทึ่ _____ วันทึ่ _____

__ / 12 คะแนน

1)




3

2)




10

3)



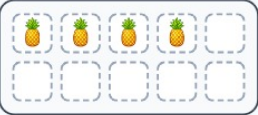
9

4)




6

5)




4

6)



5

7)



7

8)



8

เจดยท่ายชด

ช่อ _____ ช่น _____ เลขท่ _____ วนท่ _____

__ / 12 คะแนน

9)



1

10)




2

11)



8

12)



7